


Train ★★★ The Brain



Super Genius

ସ୍ମାର୍ତ୍ତ
ସିଦ୍ଧାନ୍ତମୟ



Super Genius ฝึกคิด ฝึกสมอง

ราคา 125 บาท

ผู้เขียน : Dr.Gareth Moore

แปลและเรียบเรียงจาก : Train the Brain

ผู้แปล : ครินทร์ ซอหะซัน

พิมพ์ครั้งที่ 1 : สิงหาคม 2554

TRAIN THE BRAIN

Compilation copyright © Michael O'Mara Books Limited 2008

Puzzles and solutions copyright © Gareth Moore 2008

THAI language edition published by EXPERNET CO., LTD., Copyright © 2011

จัดพิมพ์โดย : **สำนักพิมพ์เบรนจีเนียส** (ในเครือเอ็กซ์เปอร์เน็ทบุ๊กส์)
หนังสือคุณภาพ เพิ่มพลังสมองของคุณสู่ความเป็น "อัจฉริยะ"
2387 อาคารรวมทุนพัฒนา ถนนเพชรบุรีตัดใหม่
แขวงบางกะปิ เขตห้วยขวาง กรุงเทพฯ 10310
โทร. 0-2718-1821 (10 คู่สาย)
แฟกซ์ : 0-2718-1831, 0-2318-4809
<http://www.expernetbooks.com>
e-mail: public@expernetbooks.com



จัดจำหน่ายโดย : **บริษัท ซีเอ็ดดูเคชั่น จำกัด (มหาชน)**
อาคารเนชั่นทาวเวอร์ ชั้นที่ 19 เลขที่ 1858/87-90
ถนนบางนา-ตราด แขวงบางนา เขตบางนา
กรุงเทพฯ 10260
โทรศัพท์ 0-2739-8222, 0-2739-8000
โทรสาร 0-2739-8356-9
<http://www.se-ed.com>

พิมพ์ที่ : บริษัท ส.เอเชียเพรส (1989) จำกัด
โทร. 0-2732-3101

ข้อมูลทางบรรณานุกรมทอสมุดแห่งชาติ

มัวร์, กาเรท.

Super Genius ฝึกคิด ฝึกสมอง.-- กรุงเทพฯ : เบรนจีเนียส, 2554.

172 หน้า.

1. สมอง. 2. ปัญหา--การทดสอบ. I. ครินทร์ ซอหะซัน, ผู้แปล. II. ชื่อเรื่อง.

153.93

ISBN 978-974-414-187-3

พิมพ์บน
กระดาษเคลือบสายตา
www.greenread.com



หากมีข้อผิดพลาดเนื่องจากการพิมพ์ สามารถนำมาเปลี่ยนได้ที่สำนักพิมพ์เอ็กซ์เปอร์เน็ท
ในกรณีที่ต้องการซื้อเป็นจำนวนมาก เพื่อใช้ในการสอน การฝึกอบรม การส่งเสริมการขาย
หรือเป็นของขวัญพิเศษ กรุณาติดต่อสอบถามราคาพิเศษได้ที่ โทร. 0-2718-1821 (10 คู่สาย)

สารบัญ

บทนำ

4

8

Super Genius ฝึกคิด ฟิตสมอง

Super Genius Level 1

9

45

Super Genius Level 2

Super Genius Level 3

83

125

เฉลย/Super Genius Level 1

เฉลย/Super Genius Level 2

141

155


เฉลย/Super Genius Level 3

ประวัติผู้เขียน

171



**Super Genius
Level 1**





1 ประเทศใดต่อไปนี้แตกต่างไปจากพวก และเพราะเหตุใด ?

ฝรั่งเศส

ลักเซมเบิร์ก

เดนมาร์ก

โมร็อกโก

กรีซ

โครเอเชีย



ตัวเลขลำดับต่อไป คืออะไร ?

1 1 2 3 5 8



จงหาคำตอบจากปริศนาต่อไปนี้

ฉันไปธนาคารเมื่อวันอังคาร ซึ่งก่อนหน้านั้น 2 วันก็ไปซื้อปิ้ง และวันที่ไปซื้อปิ้งก็เป็นวันที่ 6 นับจากวันที่นัดหมอฟัน อยากทราบว่าวันที่ฉันนัดหมอฟันเป็นวันใดของสัปดาห์ ?

.....



ถ้าตอนนี้เวลาในประเทศไทย คือ 5:40 p.m. ส่วนเวลาที่นิวยอร์ก คือ 12:40 p.m. ซึ่งเวลาของนิวยอร์กช้ากว่าประเทศไทยอยู่ 5 ชั่วโมง ดังนั้น จงดูเวลาต่อไปนี้ของประเทศไทย แล้วคำนวณหาเวลาของนิวยอร์ก

7:50 p.m.

6:20 a.m.

3:15 a.m.

.....

.....

.....



§ ถ้าโยนลูกเต๋ามี 6 ด้าน 2 ครั้ง มีโอกาสเท่าไร
ที่ลูกเต๋าคะได้เลข 3 ติดกันสองครั้ง

🔒 ให้เวลาคุณ 1 นาที ดูรายชื่อสัตว์ทั้ง 8 ชนิดต่อไปนี้ จากนั้นปิดคำ
ด้านบนทั้งหมด เพื่อเติมคำเหล่านี้ลงในช่องว่างด้านล่างให้มากที่สุด

ยีราฟ

ช้าง

ลิง

แพะ

กระรอก

อูฐ

ลามะ

สุนัข

	=		=		=	
	=		=		=	



จงเติมตัวเลขตั้งแต่ 1-9 ลงในช่องว่างต่อไปนี้ โดยไม่ให้ตัวเลขซ้ำกัน และเมื่อคำนวณตามเครื่องหมายทางคณิตศาสตร์แล้วต้องได้ผลลัพธ์ถูกต้องตามตารางทั้งในแนวตั้งและแนวนอน

เกมนี้ใช้การเดาไม่ได้ ต้องใช้ความถูกต้องล้วนๆ !

	+		×		=	5
+		+		×		
	-		×		=	18
×		-		+		
	×		+		=	53
=		=		=		
81		2		14		

วิธีคำนวณก็เหมือนกับการคำนวณด้วยเครื่องคิดเลขนั่นเอง ตัวอย่างเช่น จากแถวแรกในแนวตั้ง ให้เติมตัวเลขในช่องที่ 1 และ 2 เพื่อบวกกันก่อนแล้วจึงนำผลลัพธ์มาคูณกับตัวเลขในช่องที่ 3 ต่อไป




อ่านเรื่องราวเกี่ยวกับสารพัดสารพันสีต่อไปนี้
แล้วตอบคำถามให้ได้มากที่สุดโดยไม่ย้อนกลับไปดูเนื้อหา
เมื่อตอบคำถามเรียบร้อยแล้ว ให้กลับมาอ่านเรื่อง
อีกครั้งหนึ่งเพื่อหาคำตอบที่เหลือ

สีโปรดของเจมส์คือ สีแดง สีที่เขาใช้ทาทางเข้าบ้านซึ่งเข้ากันพอดีกับสีรถของเขา แต่เจมส์ไม่ชอบรถสีเขียวเข้มของไชมอนน้องชายของเขา เพราะมันดูเข้มเกินไปอย่างกับรถลายพรางทหารยังงั้น ! ส่วนไคแอน น้องสาวของเขาก็ไม่ชอบบรรดารถที่มีสีสันแบบสีรุ้งกินน้ำทั้งหลาย เธอชอบแค่สีดำกับสีขาวเท่านั้น ด้วยเหตุนี้รถกระบะของเธอจึงเป็นแบบสีดำสลับขาว ซึ่งเป็นสองสีที่เธอชื่นชอบ แต่เจมส์กลับมองว่าการพ่นสีรถแบบนี้มันดูหวานแหววเหมือนสีลูกกวาดเสียมากกว่า ส่วนบ๊อบเพื่อนของไชมอนเป็นคนชอบสีสันสดใส โดยเฉพาะสีส้มกับสีเหลืองสด ซึ่งเป็นสีที่เขาใช้ทาประตูหน้าบ้านให้ดูโดดเด่นเกินบรรยาย

- 1 รถของไชมอนสีอะไร ?
- 2 บ๊อบกับเจมส์มีความเกี่ยวข้องกันอย่างไร ?
- 3 ไคแอนเป็นเจ้าของรถอะไร ?
- 4 สองสีที่บ๊อบใช้ทาประตูบ้านของเขาคือสีอะไรบ้าง ?
- 5 รถที่จอดอยู่ตรงถนนทางเข้าบ้านของเจมส์เป็นสีอะไร ?
- 6 สีที่ไคแอนไม่ชอบคือสีอะไร ?



ดูรูปวงกลมต่อไปนี้ แล้วตอบคำถามด้านล่าง



- 1 คุณนับวงกลมในรูปนี้ได้ทั้งหมดกี่วง ?
- 2 รูปนี้มีพื้นที่ที่แยกออกจากกันกี่ส่วน
- 3 รูปนี้มีวงกลมที่ซ้อนทับกับวงกลมอื่นๆ ณ จุดหนึ่งมากที่สุดกี่วง ?
.....
- 4 คุณสามารถวาดรูปนี้โดยไม่ยกปากกาเลยได้หรือไม่ ?
.....

A grid of points is shown. A path of connected points is highlighted, starting from the top-left corner and ending at the bottom-right corner. The path consists of several connected line segments. A circle is drawn around the point at the bottom-right corner of the path.

