

# IQ PUZZLES

## ปตตลออกกรหัท อจจรเ

ผู้เขียน : CAPELLA

IQ PUZZLES



## จีเนียส ☆ จีเอ็ดดี้ ปลดลือกรหัสอัจฉริยะ



ราคา 95 บาท

แปลและเรียบเรียงจาก : IQ PUZZLES

ผู้เขียน : Capella

ผู้แปล : Mr. Genius

พิมพ์ครั้งที่ 1 : กรกฎาคม 2554

IQ PUZZLES

Copyright © 2008 by Arcturus Publishing Limited

Thai edition published by Expernet Co., Ltd.

จัดพิมพ์โดย : **สำนักพิมพ์เบรนจีเนียส**



หนังสือคุณภาพ เพิ่มพลังสมองของคุณสู่ความเป็น "อัจฉริยะ"

2387 อาคารรวมทุนพัฒนา ถนนเพชรบุรีตัดใหม่

แขวงบางกะปิ เขตห้วยขวาง กรุงเทพฯ 10310

โทร. 0-2718-1821 (10 คู่สาย)

แฟกซ์ 0-2718-1831, 0-2318-4809

<http://www.expernetbooks.com>

e-mail : [public@expernetbooks.com](mailto:public@expernetbooks.com)

จัดจำหน่ายโดย : **บริษัท เอ็กซ์เปอร์เน็ต จำกัด**

2387 อาคารรวมทุนพัฒนา ถนนเพชรบุรีตัดใหม่

แขวงบางกะปิ เขตห้วยขวาง กรุงเทพฯ 10310

โทร. 0-2718-1821 (10 คู่สาย)

แฟกซ์ 0-2718-1831, 0-2318-4809

<http://www.expernetbooks.com>

e-mail : [public@expernetbooks.com](mailto:public@expernetbooks.com)

พิมพ์ที่ : ธรรมกลการพิมพ์

โทร. 0-2932-4911, 0-2932-5433

ข้อมูลทางบรรณานุกรมหอสมุดแห่งชาติ

คาเปลลา.

**จีเนียสจี ปลดลือกรหัสอัจฉริยะ**.--กรุงเทพฯ : เบรนจีเนียส, 2554.

134 หน้า.

1. สมอง--การทดสอบ. 2. เกม. I. Mr. Genius, ผู้แปล. II. ชื่อเรื่อง.

418.4

ISBN 978-974-414-186-6

หากมีข้อผิดพลาดเนื่องจากการพิมพ์ สามารถนำมาเปลี่ยนได้ที่สำนักพิมพ์เอ็กซ์เปอร์เน็ต  
ในกรณีที่ต้องการซื้อเป็นจำนวนมาก เพื่อใช้ในการสอน การฝึกอบรม การส่งเสริมการขาย  
หรือเป็นของขวัญพิเศษ กรุณาติดต่อสอบถามราคาพิเศษได้ที่ โทร. 0-2718-1821 (10 คู่สาย)

# บทนำ

หนังสือเล่มนี้จะพิสูจน์ให้คุณเห็นว่าการใช้ความคิดก็เป็นเรื่องสนุกได้ ตั้งแต่หน้าถัดไปคุณจะได้พบกับคำถามที่มีระดับความยากง่ายแตกต่างกันสำหรับการทดสอบขีดสุดของความคิดที่คุณมีอยู่

คำถามเหล่านี้ประกอบไปด้วย คณิตศาสตร์ ตรรกศาสตร์ และปริศนาที่เกี่ยวกับการรับรู้ อย่างไรก็ตามคุณไม่จำเป็นต้องใช้ความเชี่ยวชาญด้านใดเป็นพิเศษที่นอกเหนือไปกว่าคณิตศาสตร์พื้นฐาน สิ่งเดียวที่คุณจำเป็นต้องใช้ในการไขปริศนาทั้งหมดคือ การคิดอย่างมีระบบ ประกอบกับสมาธิอันแน่วแน่เท่านั้น

คำถามบางข้ออาจจะต้องใช้เวลาหลายนาทีเพื่อคิดหาคำตอบ และบางข้อก็อาจจะยิ่งกดดันให้คุณต้องใช้ความคิดมากยิ่งขึ้นไปอีก คุณจะไม่มีวันรู้เลยว่าคำถามข้อต่อไปจะเป็นอย่างไร ดังนั้นคุณจึงสามารถพัฒนาสมองของคุณได้อย่างไม่รู้เบื่อ (คำตอบทั้งหมดจะอยู่ในส่วนท้ายของหนังสือ)


จีเนียสที พลดลือกรหัสอัจฉริยะ (IQ PUZZLES) นี้จะช่วยกระตุ้นความคิดเชิงตรรกะ และพัฒนาสมองของคุณให้มีประสิทธิภาพยิ่งขึ้น แน่นอนว่าคุณเองก็เป็นอัจฉริยะได้เช่นกัน !

ジニアス





ในภาพด้านบนจะประกอบไปด้วยโดมิโนทั้งหมด 28 ตัว จงเขียนกรอบให้กับโดมิโนแต่ละตัวโดยไม่ซ้ำหรือทับกันเลย ส่วนด้านล่างจะเป็นโดมิโนทั้งหมดที่อยู่ในภาพ และเราได้วางโดมิโนตัวแรกไว้เพื่อเป็นตัวช่วยให้คุณแล้ว



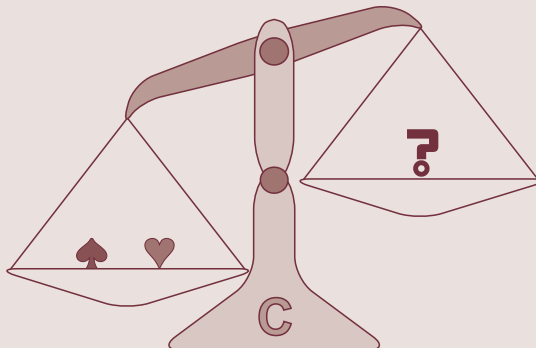
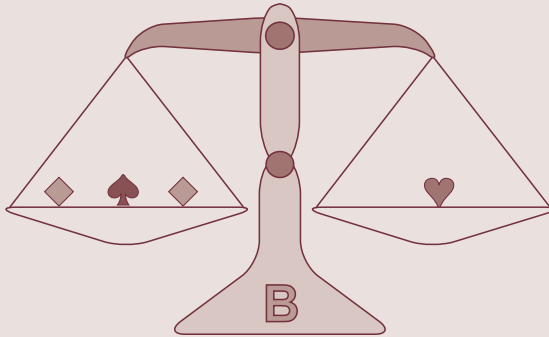

0-0	0-1	0-2	0-3	0-4	0-5	0-6
	✓					

1-1	1-2	1-3	1-4	1-5	1-6	2-2

2-3	2-4	2-5	2-6	3-3	3-4	3-5

3-6	4-4	4-5	4-6	5-5	5-6	6-6

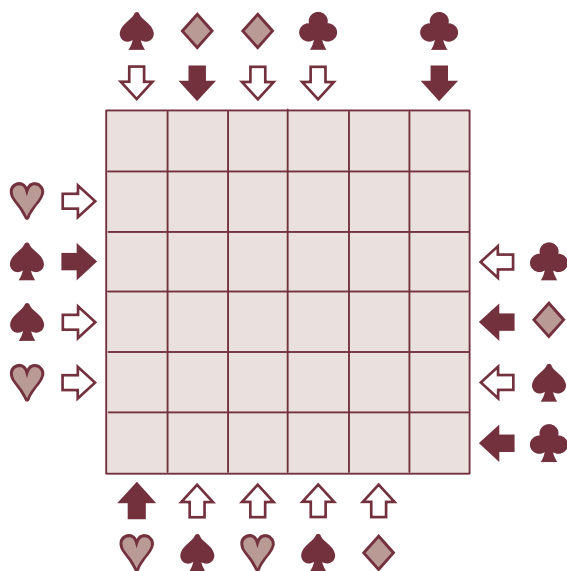
ตาชั่ง A และตาชั่ง B มีน้ำหนักเท่ากันโดยสมบูรณ์ คุณต้องใช้  
ข้าวหลามตัดกี่ตัวเพื่อให้ตาชั่ง C สมมาตร ?



ในแนวตั้ง และแนวนอนแต่ละแถวจะประกอบไปด้วยสัญลักษณ์  
โพแดงหนึ่งดอก ดอกจิกหนึ่งดอก ข้าวหลามตัดหนึ่งดอก โพดำหนึ่งดอก  
และช่องว่างอีกสองช่อง โดยไม่จำเป็นต้องเรียงตามลำดับ

สัญลักษณ์ที่อยู่คู่กับลูกศรสีทึบ หมายความว่าสัญลักษณ์ดังกล่าวจะเป็นสัญลักษณ์แรกที่ปรากฏในทิศทางของลูกศร ส่วนสัญลักษณ์ที่อยู่คู่กับลูกศรสีขาว หมายความว่าสัญลักษณ์ดังกล่าวจะเป็นสัญลักษณ์ที่สองที่ปรากฏในทิศทางของลูกศร

คุณสามารถเติมสัญลักษณ์ทั้งหมดลงในกรอบปริศนาได้หรือไม่ ?



# 4

จงเติมตัวเลขระหว่าง 1 ถึง 30 ลงในช่องว่างต่อไปนี้ โดยคุณสามารถใช้ตัวเลขซ้ำได้มากกว่าหนึ่งครั้ง หรืออาจจะไม่ใช้ตัวเลขบางตัวเลขก็ได้

ตัวเลขทั้งหมดในแถวแนวนอนจะรวมกันได้ผลลัพธ์เท่ากับตัวเลขในกรอบด้านขวา เช่นเดียวกับกับตัวเลขในแนวทแยงทั้งสองด้านจะรวมกันได้เท่ากับตัวเลขในกรอบบนขวาและล่างขวา และในทำนองเดียวกันตัวเลขทั้งหมดในแถวแนวตั้งก็รวมกันได้ผลลัพธ์เท่ากับตัวเลขในกรอบทางด้านล่างเช่นกัน

							115
11	13	21	13	29		18	133
20	20			5	18	23	109
3		4	12	20	18		82
9	1	4		8			91
23		10	23		15	27	134
	6	17	21		19	2	99
	27	5	4	11	14		106
92	98	65	114	126	132	127	124



จงวาดเข็มให้กับนาฬิกาเรือนสุดท้าย

1



2



3


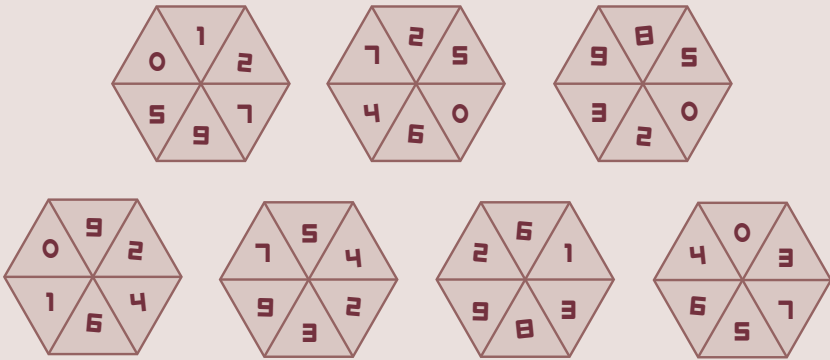


4



# 6

จงใส่รูปหกเหลี่ยมที่ให้ไว้ในกรอบทางด้านล่าง โดยด้านที่รูป  
หกเหลี่ยมสัมผัสกันจะเป็นตัวเลขเดียวกันทั้งหมด ห้ามหมุนรูปหกเหลี่ยม  
เป็นอันขาด !





รูปทรงตัวแอลทั้ง 4 รูปนี้มีรูโหว่อยู่รูปละหนึ่งรู

โดยภายในกรอบสี่เหลี่ยมจะประกอบไปด้วยรูปทรงตัวแอลทั้ง 4 แบบอย่างละ 3 รูป โดยพวกมันอาจจะถูกหมุน หรือพลิกก่อนที่จะนำไปใส่ลงในกรอบสี่เหลี่ยมนี้ได้ แต่จะไม่มีรูปทรงแบบเดียวกันที่สัมผัสกันเลยแม้แต่ตรงส่วนมุมก็ตาม

รูปทรงทั้งหมดถูกใส่ลงในกรอบอย่างพอดีจนคุณมองไม่เห็นช่องว่างแม้แต่หนึ่งเดียว คุณจะมองเห็นเพียงแต่รูโหว่ของแต่ละรูปทรงเท่านั้น

คุณสามารถบอกได้หรือไม่ว่ารูปทรงใดอยู่ตรงไหน ?

